


Opracowała: Joanna Wiczorek


SYLWETKI ZNANYCH EUROPEJCZYKÓW NA PRZESTRZENI WIEKÓW

Zadanie

Rozpoznaj znanych Europejczyków i sporządź krótkie noty biograficzne.



A.




B.



C.



D.



E.



F.

Źródło zdjęć: Michael H. Hart, *100 postaci, które miały największy wpływ na dzieje ludzkości*, Warszawa 1997.

A.

.....

B.

.....

C.

.....

D.

.....

F.

.....

G.

.....

Opracowała: Joanna Wiczorek

Zadanie

Wielu znakomitych artystów kompozytorów, ludzi rozrywki, wynalazów, naukowców i mistrzów sportu było Europejczykami. W tabeli uzupełnij brakujące informacje o podanych postaciach lub zespołach muzycznych.

Nazwisko/nazwa	Miejsce pochodzenia	Czym się wstawili?
ABBA	Szwecja	Grupa muzyczna-ich przeboje były popularne na całym świecie w latach 70.
Stefan Banić		
The Beatles		
Niels Bohr		
Charlie Chaplin		
Fryderyk Chopin		
Nadia Comaneci		
Salvador Dali		
Marlena Dietrich		
Federico Fellini		
Justine Henin		
Franz Liszt		
Isaak Newton		
U2		
Alfred Nobel		
Rembrandt van Rijn		
Oskar Wilde		
George B. Shaw		
Louis de Funes		
Andrzej Wajda		
Europe		
Michał Anioł		
Agnieszka Holland		
Mazowsze		
Hans Christian Andersen		
Matti Nykänen		

Źródła informacji:

Urząd Komitetu Integracji Europejskiej

Brozura "Odkryjmy Europę", Luksemburg 2008.

Michael H. Hart, 100 postaci, które miały największy wpływ na dzieje ludzkości, Warszawa 1997.

PATRONI EUROPY

Zadanie

Rozpoznaj na podanej niżej ikonografii patronów Europy.



A. B. C.



D. E.

Źródła ilustracji: Zasoby internetowe:

www.brewiarz.pl

ekai.pl/europa/dziedzictwo

www.swbenedykt.pl

OJCOWIE-ZAŁOŻYCIELE EUROPY

Zadanie

O kim mowa?

A. Pierwszy kanclerz Niemiec po wojnie, współtwórca idei zjednoczonej Europy.

[.....]

B. Współtwórca idei powołania Europejskiej Wspólnoty Węgla i Stali. Minister spraw zagranicznych Francji w latach 1948-1952.

[.....]

C. Premier Wielkiej Brytanii w czasie II wojny światowej. Sugerował powołanie Stanów Zjednoczonych Europy.

[.....]

D. Premier Włoch w latach 1945-53, współautor i realizator koncepcji integracji europejskiej, współinicjator utworzenia w 1949 r. Rady Europy i Europejskiej Wspólnoty Węgla i Stali.

[.....]

E. Prezydent Francji w latach 1981 -1995, zwolennik ścisłej integracji europejskiej.

[.....]

F. Premier Belgii, przewodniczący Zgromadzenia EWWiS, Sekretarz Generalny NATO, współtwórca Europejskiej Wspólnoty Węgla i Stali.

[.....]

G. Prezydent Francji w latach 1959-69, francuski bohater narodowy, zwolennik Europy ojczyzn i ograniczania roli Stanów Zjednoczonych na kontynencie.

[.....]

H. Jeden z "Ojców Założycieli" zjednoczonej Europy, współautor koncepcji powołania Europejskiej Wspólnoty Węgla i Stali, pierwszy przewodniczący jej organu wykonawczego - Wysokiej Władzy.

[.....]

Źródło informacji: Urząd Komitetu Integracji Europejskiej

Opracowała: Joanna Wieczorek

Zadanie

Kto przedstawił pierwszy oficjalny projekt Europy Lidze Narodów w 1929 roku?

- A. Winston Churchill
- B. Aristide Briand
- C. Gustav Stresemann
- D. René Pleven

Zadanie

Kto opowiedział się w 1946 roku w Zurychu za założeniem Europejskiej Wspólnoty Państw w przemówieniu utworzenie „Zjednoczonych Stanów Europy“?

- A. Winston Churchill
- B. Alcide de Gaspari
- C. Aristide Briand
- D. Robert Schuman

Zadanie

Kto został pierwszym prezydentem „Wysokiej Władzy“?

- A. Jean Monnet
- B. Walter Hallstein
- C. Robert Schuman
- D. Joseph Bech.

Zadanie

Kto chciał rozszerzyć EWWiS o Europejską Wspólnotę Polityczną?

- A. Winston Churchill
- B. Konrad Adenauer
- C. Altiero Spinelli
- D. Alcide de Gaspari

Zadanie

Na rzecz zjednoczenia Europy działali również Polacy. Przeczytaj podane niżej informacje i napisz o kim mowa.

“Urodził się w 1888 roku w Krakowie. Polityk, posarz, bliski współpracownik generała Sikorskiego, po wojnie na emigracji. Był współzałożycielem i sekretarzem generalnym Ruchu Europejskiego. Jeden z twórców Wspólnoty Europejskiej; cichociemny, wolnomularz”.

Opracowała: Joanna Wiczorek

Odpowiedź:

Źródło informacji:

Józef Garliński, *Politycy i żołnierze*, Warszawa 1991.

Zadanie

Przyporządkuj nazwiska do fotografii.

**Konrad Adenauer, Winston Churchill, Alcide De Gasperi, Paul-Henri Spaak,
Robert Schuman, Jean Monnet.**



A.



B.



C.



D.



E.



F.

- A.
- B.
- C.
- D.
- E.
- F.

Zadanie

O wielkich placach bywa głośno, kiedy gromadza się na nich tłumy. Przed 2 lutego 2011 r. niewiele osób słyszało o placu Tahrir (Wyzwolenia) w Kairze. Większość z nich nie kojarzy się jednak z dramatycznymi wydarzeniami-stanowią przede wszystkim atrakcję turystyczną. Placę wartę zobaczenia wymienione są obok. Każdy należy ułożyć we właściwej stolicy (nazwy placów zostały spolszczone, jeśli było to możliwe).

Plac	Wpisz właściwą literę	Stolica
1. Aleksandra		a. Amsterdam
2. Bohaterów		b. Ateny
3. Dam		c. Belgrad
4. Kolumba		d. Berlin
5. Konstytucji		e. Bratysława
6. Luksemburski		f. Budapeszt
7. Ratuszowy		g. Helsinki
8. Republiki		h. Kopenhaga
9. Rossio		i. Lizbona
10. Senacki		j. Londyn
11. Sergala		k. Madryt
12. Św. Stefana		l. Paryż
13. Św. Piotra		m. Praga
14. Trafalgarski		n. Rzym
15. Waclawa		o. Sztokholm
16. Wolności		p. Wiedeń
17. Zgody		r. Bruksela

Źródło: Omnibus Wakacyjny

Zadanie

Trudno nie wiedzieć, jakie miasta są głównymi siedzibami ONZ i Unii Europejskiej. Obie organizacje stały się niemal wizytówkami metropolii, w których się znajdują, jedna - Nowego Jorku, druga - Brukseli. Warto natomiast przypomnieć sobie, gdzie zadomowiły się ich wyspecjalizowane instytucje i organy oraz inne duże organizacje międzynarodowe, przypisując każdej właściwe miasto-wybrane z następujących:

Addis Abeba, Amsterdam, Bruksela, Frankfurt, Genewa, Haga, Kair, Londyn, Lozanna, Luksemburg, Lyon, Monako, Paryż, Rzym, Strasburg, Waszyngton, Wiedeń, Zurych.

Opracowała: Joanna Wieczorek

1. Amnesty International -
2. Europejski Bank Centralny -
3. Europejski Trybunał Praw Człowieka -
4. Greenpeace -
5. Interpol -
6. Liga Państw Arabskich -
7. Międzynarodowa Federacja Piłki Nożnej (FIFA) -
8. Międzynarodowe Stowarzyszenie Federacji Lekkoatletycznych (IAAF) -
9. Międzynarodowy Fundusz Walutowy -
10. Międzynarodowy Komitet Czerwonego Krzyża -
11. Międzynarodowy Komitet Olimpijski -
12. Międzynarodowy Trybunał Sprawiedliwości -
13. NATO-
14. Organizacja Krajów Eksportujących Ropę Naftową (OPEC) -
15. Organizacja narodów Zjednoczonych d/s Oświaty, Nauki i Kultury (Unesco) -
16. Organizacja Narodów Zjednoczonych d/s Wyżywienia i rolnictwa (FAO) -
17. Trybunał Sprawiedliwości Unii Europejskiej -
18. Unia Afrykańska -

Źródło: Omnibus Wakacyjny

Zadanie

Każde ze stwierdzeń wyraża pogląd, pod którym podpisałby się jeden z wymienionych u dołu filozofów. Przypisz stwierdzenia właściwym osobom.

1. Choć świat materialny jest bezrozumny, to istnieje w nim harmonia i ład, ponieważ został stworzony przez siłę twórczą według wzorów, którymi są doskonałe idee.
2. Człowiek jest zwierzęciem politycznym stworzonym do życia w państwie, ale człowiekiem jest tylko mężczyzna, kobieta nie jest w pełni człowiekiem i nie powinna zajmować się polityką.
3. Każda teza zawiera w sobie antytezę, obydwie zaś zostają zniesione w syntezie.
4. Najprzyjemniejszym jest stan, gdy człowieka nie spotyka ani nic dobrego, ani nic złego; najwięcej przyjemności ma ten, kto ma najmniej potrzeb.
5. Nauka służy panowaniu człowieka nad przyrodą i dokonywaniu wynalazków; w nauce najważniejszy jest eksperyment.
6. Nauka, jako dzieło intelektu, deformuje rzeczywistość; sposobem na poznanie prawdy pierwotnej jest intuicja.

Opracowała: Joanna Wiczorek

7. Nie ma obiektywnego dobra lub zła; wartość etyczna zależy od relacji między rzeczami i ludźmi.
8. O wszystkim można wątpić poza myśleniem, bo wątpiąc, myślimy, a zatem istota człowieczeństwa polega na myśleniu.
9. Odrzućmy wstyd-to, co robią wszyscy, można robić publicznie.
10. Przyczyną czynienia zła jest niewiedza, a zatem-na przykład-by być sprawiedliwym, wystarczy wiedzieć, czym jest sprawiedliwość.
11. Racja nie wiele znaczy, jeśli nie jest poparta siłą, więc okrucieństwo i terror są uzasadnione, ale należy je stosować tylko w razie potrzeby i rozsądnie.
12. Rozwój umysłowy, czyli literatura, nauka i sztuka, prowadzi do degradacji moralnej, bo tłumi naturalne instynkty, które czynią człowieka dobrym.
13. Szczęście zapewnia działanie, które polega na wypełnianiu swoich obowiązków-bez zwracania uwagi na porażkę i sukcesy.
14. Szczęście wynika z poczucia mocy zdolnej przewycięzać wszelki opór.
15. Świat jest wieczny; wszystko płynie i nic nie pozostaje takie samo.
16. Wolna wola jest konieczna, aby zasady moralne miały sens, ale jest tylko jedna zasada moralna, którą można zaakceptować: postępuj według takich reguł, które uczyniłbyś prawem powszechnym.
17. Wolność wiąże się z cierpieniem, bo gdy nic nie warunkuje wyboru, to nie ma nic pewnego poza tym, że wszystko jest możliwe.
18. Wzorem zachowania powinien być życzliwy opiekun-wrażliwy na cudze potrzeby, skłonny do pomagania innym, godny zaufania.

Arystoteles
Francis Bacon
Henri Bergson
Diogenes z Synopy
Epikur
Georg Hegel
Heraklit z Efezu
Immanuel Kant
Kartezjusz
Konfucjusz
Tadeusz Kotarbiński
Niccolo Machiavelli
Fryderyk Nietzsche
Platon
Jan Jakub Rousseau
Jean-Paul Sartre
Sokrates
Boruch Spinoza

Numer	Plejada filozofów
1	
2	
3	
4	
5	
6	
7	
8	
9	
10	
11	
12	
13	
14	
15	
16	
17	
18	

Źródło: Omnibus Wakacyjny

*Na lewo most,
na prawo most...*

Zadanie

Obok nazwy każdego mostu wpisz nazwy stolicy, w której się znajduje-wybrana spośród podanych niżej – a następnie literę, oznaczającą z widokiem tego mostu.

**Amsterdam, Berlin, Bratysława, Budapeszt, Lizbona,
Londyn, Madryt, Paryż, Praga, Rzym, Sztokholm, Wiedeń**

Nazwa mostu	Stolica	Litera
1. Chudy Most		
2. Most Elżbiety		
3. Most Glienickie		

Opracowała: Joanna Wieczorek

4. Most Karola		
5. Most Lafranconi		
6. Most Rzeszy		
7. Most św. Anioła		
8. Most Toledański		
9. Most Vasa		
10. Most Vasco da Gamy		
11. Most Wieżowy		
12. Most Wymiany		

Zadanie

Rozwiń skróty.

- A. CAP-
- B. CEFTA -
- C. EFTA -
- D. EWG -
- E. EWWiS -
- F. PKB -
- G. WE -

Zadanie

Uzupełnij brakujące informacje.

Nazwa organizacji	Siedziba	Członkowie	Cele i założenia	Stosunki z Polską
EFTA				Polska współpracuje od 1990 roku. Utworzono strefę wolnego handlu między Polską a krajami EFTA
	-----	Polska, Węgry, Czechy, Słowacja,		aktywne uczestnictwo
CEFTA	Kraków		✘ stworzenie strefy wolnego handlu,	

Opracowała: Joanna Wiczorek

			<p>stopniowe zniesienie ograniczeń celnych,</p> <ul style="list-style-type: none">✘ współpraca w dążeniu do integracji z Unią Europejską,✘ ochrona własnego rolnictwa,✘ ułatwienia w ruchu turystycznym	
OECD	Paryż			<p>Polska wstąpiła do OECD w 1996 roku. Przynależność do tej organizacji zwiększyła jej prestiż i wiarygodność w ocenach kredytodawców i inwestorów.</p>
	Strasburg		<ul style="list-style-type: none">✘ zaciśnianie współpracy✘ w dziedzinie społecznej, kulturalnej i prawnej między państwami członkowskimi	

Zadanie

Historia Europy to historia licznych wojen rozdzielanych latami pokoju. Od zakończenia II wojny światowej do konfliktu bałkańskiego w latach dziewięćdziesiątych XX wieku trwał na naszym kontynencie najdłuższy okres pokoju. Przed Tobą dwa dzieła w symboliczny sposób prezentujące wojne i pokój.

Obejrzyj dzieła Blain i Deminga. Zaznacz zdanie, które najlepiej oddaje Twoje wrażenie.

Dominique Blain "Missia"

- a) Buty są symbolem przemarszu wojsk.
- b) Buty przedstawiają migracje i wysiedlenia ludności w czasie wojny oraz po jej zakończeniu.
- c) Nagromadzenie butów obrazuje gęstość zaludnienia w Europie.

Opracowała: Joanna Wiczorek

d) Buty symbolizują spiszających się ludzi, tempo ich życia.



Gunter Demnig „Friedensrolle”

Wojna i pokój są ze sobą nierozłączne.

- a) „Historia jest nauczycielką życia” – skąd więc tyle wojen i konfliktów?
- b) Osiągnięcie trwałego pokoju to najtrudniejsza rzecz na świecie...



Gdybyś to Ty miał stworzyć dzieło symbolizujące historię Europy co by ono przedstawiało?

Źródło: www.wystaw-europa.pl, www.wroclaw.pl

.....

.....

.....

.....

.....
.....
.....

Zadanie

Po upadku komunizmu w krajach środkowo-wschodniej Europy państwa tego regionu uzyskały szansę na integrację ze strukturami Unii Europejskiej. Polska dołączyła do UE w 2004 roku, w kolejce czekają następne państwa. Czy był to korzystny dla nas krok, przekonujemy się dzisiaj.

Dopasuj rok do wymienionych wydarzeń.

- traktat z Maastricht –
- układ z Schengen –
- wprowadzenie euro w pierwszych 12 krajach Unii Europejskiej –
- ostatnie rozszerzenie Unii Europejskiej –

1985 1993 2002 2004 2007

Zadanie

W 2002 r. Rada Europejska zgromadzona w Kopenhadze wyraziła zgodę, aby 1 maja 2004 r. do Unii Europejskiej przystąpiło 10 krajów kandydujących. Wśród tych 10 krajów były między innymi:

Zaznacz „X” prawidłową odpowiedź:

- a) Litwa, Austria, Finlandia, Szwecja
- b) Estonia, Łotwa, Bułgaria, Rumunia
- c) Cypr, Czechosłowacja, Polska, Węgry
- d) Malta, Polska, Słowacja, Węgry

KUCHNIA

A. Cechą wspólną wszystkich regionów tego państwa jest zamiłowanie do serów i wina oraz pogarda dla kuchni amerykańskiej, którą symbolizuje McDonald's.

B. Kraj dla wielbicieli piwa, w kraju tym produkuje się bowiem kilkadziesiąt gatunków tego trunku, a każdy szanujący się pub warzy własne piwo dla stałych bywalców.


C. Kuchnia tego kraju uchodzi jest najpopularniejsza i najsmaczniejsza na świecie. Dietetycy uważają, że obok walorów smakowych, ma także zbawienne znaczenie dla zdrowia – jest bogata w ryby i owoce morza, warzywa, zwłaszcza pomidory i oliwę z oliwek. Dała światu pizzę i makarony.

Opracowała: Joanna Wiczorek

D. Każdy, kto choć raz skosztował jedzenia tego państwa wie, że oprócz muzyki klasycznej największym wkładem tego kraju w kulturę światową jest właśnie kuchnia. Potrawy są wypadkową kulturowej i etnicznej różnorodności. Któż nie słyszał o czekoladowym torcie Sachera, sznyclu po wiedeńsku, strudlu z jabkami czy pischingerze.



E. Jest przykładem typowej lekkiej kuchni śródziemnomorskiej. Dominują w niej potrawy z warzyw, oliwki, owoce morza i ser. Tradycyjny posiłek zaczyna się najczęściej od wypicia anyżówki z odrobioną wody, która zaostrza apetyt i pomaga w trawieniu.



F. Kuchnia tego państwa kojarzy się przede wszystkim z brukselką, która w tym kraju podaje się na różne okazje. Brukselka z boczkiem pojawia się na świątecznym stole.



G. Podstawą kuchni są ryby morskie i słodkowodne. Zgodnie z tradycją, mieszkańcy spotykają się przy kociołkach pożywnej zupy rybnej.



H. Kuchnia tegoż państwa uważana jest przez smakoszy za jedną z najlepszych na świecie. Królują w niej owoce morza, potrawy z ryżu i warzyw oraz ciasta bakaliowe z miodem. Wieprzowina z morelami to tradycyjna potrawa podawana na Boże Narodzenie.



I. Kuchnia ta opiera się głównie na niewyszukanych, wiejskich potrawach, w których dominują ziemniaki spożywane niemal przy każdym posiłku. Miejscowi gotują je tradycyjnie w "mundurkach".



J. Dla każdego smakosza państwo to kraina serów, dorównujących francuskim, a przez niektórych uważanych za smaczniejsze.



Źródła informacji:

Państwa Zjednoczonej Europy.

Regionalne Centrum Informacji Europejskiej, Rzeszów WSIIZ