

## GEOGRAFIA

### Zadanie

Na mapie Europy zamaluj państwa:

- 1 – na niebiesko Grecję
- 2 – na zielono Irlandię
- 3 – na żółto Litwę
- 4 – na brązowo Słowację
- 5 – na czerwono Portugalię
- 6 – na czarno Luksemburg
- 7 – na pomarańczowo Danię.



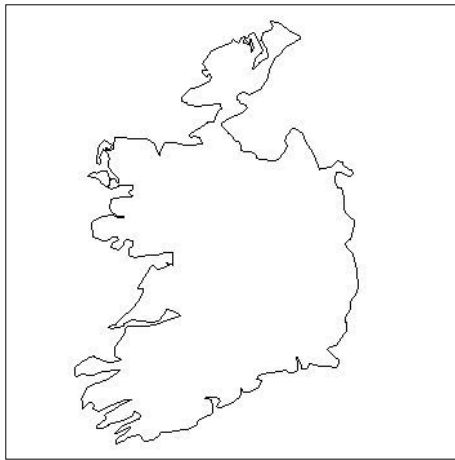
Źródło mapy: j/w



Opracowała: Joanna Wiczorek

**Zadanie**

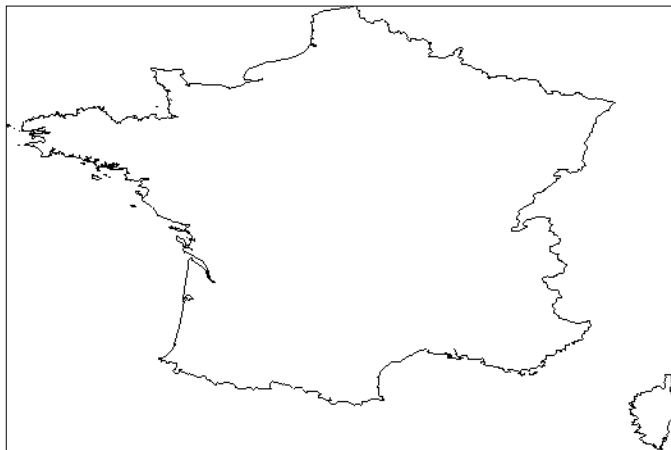
**Podpisz odpowiednio wybrane mapy konturowe państw UE.**



A. ....



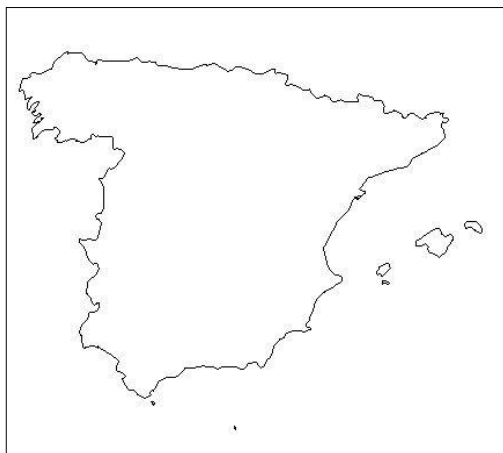
B. ....



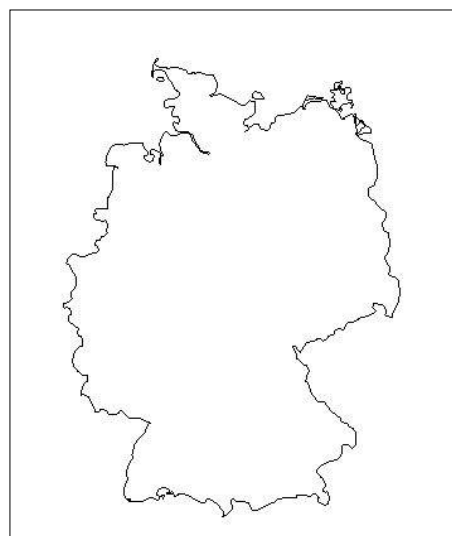
C. ....



D. ....



E. ....



F. ....

Źródła map: [schools.look4.net.nz](http://schools.look4.net.nz) / [aneki.com](http://aneki.com) / [geography.about.com](http://geography.about.com)

Opracowała: Joanna Wieczorek

### Zadanie

**Rozpoznaj cieśniny Europy. Następnie wpisz w miejsce kropek ich nazwy oraz nazwy obszarów lądowych, które od siebie oddzielają lub akwenów morskich, które ze sobą łączą.**

- A - Cieśnina ....., oddziela wyspy: Sardynię  
od .....
- B – Cieśnina ....., oddziela Półwysep Apeniński  
od wyspy .....
- C - Cieśnina ....., łączy morza: Adriatyckie  
z .....
- D - Cieśnina ....., łączy morza: Celtyckie  
z .....

### Zadanie

**Wpisz nazwy państw, na terenie których leżą wymienione miasta.**

- A. Florencja - .....
- B. Salzburg - .....
- C. Warna - .....
- D. Nikozja - .....
- E. Brno - .....
- F. Espoo- .....
- G. Dynenburg - .....
- H. Mediolan - .....
- I. Lizbona- .....
- J. Bergen - .....
- K. Tallinn- .....

### Zadanie

**Zaznacz zestaw, w którym wszystkie wymienione obiekty geograficzne położone są na terytorium Francji.**

- A. Mierzeja Kurońska, Wyżyna Miednicka, Jezioro Dubińskie, Niemen, Wilia.
- B. Korsyka, Sekwana, Somma, Lazurowe Wybrzeże, Alpy, Jezioro Genewskie.
- C. Morze Jońskie, Kreta, Półwysep Peloponez, Wyspy Jońskie, Zatoka Koryncka, Olimp.
- D. Jezioro Genewskie, Jezioro Bodeńskie, Alpy, Przełęcz św. Bernarda i św. Gotharda.

Opracowała: Joanna Wieczorek

### Zadanie

Przyporządkuj obiekty architektoniczne (sakralne) odpowiednim państwom.

Austria, Hiszpania, Francja, Włochy, Litwa, Portugalia, Niemcy, Portugalia

Obiekt architektoniczny	Państwo
Bazylika Sacré-Cœur	
<i>Katedra Santa Reparata</i>	
Katedra św. Piotra i Najświętszej Marii Panny	
Katedra Świętego Szczepana Męczennika	
Opactwo Cystersów w Alcobaça	
Klasztor dos Jerominos i wieża Belém	
Ostra Brama	
La Sagrada Família	

### Zadanie

Niemcy to państwo będące potęgą gospodarczą Europy. Wskaż zestaw, w którym wymieniono tylko koncerny niemieckie:

- A. Hoechts, BMW, Fiat, Daewoo,
- B. Siemens, Thyssen, Vattenfall, Pliva,
- C. Volkswagen, Bosch, Gazprom, LG Electronics,
- D. Volkswagen, Siemens, Thyssen, Bosch

### Zadania

Miasta występujące na terenie Słowacji to:

- A. Praga, Brno, Koszyce, Bańska Szczawnica,
- B. Bratysława, Koszyce, Trenczyn, Bańska Szczawnica,
- C. Brno, Bratysława, Koszyce, Trenczyn,
- D. Ostrawa, Pilzno, Koszyce, Trenczyn.

**Zadanie**

**Na mapie Europy zaznacz odpowiednio literami rzeki Europy.**

**Rzeki:**

1. Wisła – A
2. Loara – B
3. Ebro – C
4. Pad – D
5. Łaba – E
6. Rodan – F



Źródło mapy: j/w

### Zadanie

Na podstawie opisów rozpoznaj państwa Europy a odpowiedź wpisz w odpowiednie miejsce w tabeli.

Opis państwa	Państwo
A. Jest największą wyspą we wschodniej części Morza Śródziemnego, położoną na południe od Turcji. Dwa największe łańcuchy górskie to Pentadactylos na północy i Troodos w środkowej i południowo-zachodniej części wyspy, pomiędzy którymi rozciąga się żyzna równina Messaoria.	
B. Państwo położone na Półwyspie Jutlandzkim (Jylland) oraz na ponad 400 wyspach, z których największe to Fionia ( <i>Fyn</i> ) i Zelandia ( <i>Sjælland</i> ), a 82 to wyspy zamieszkałe. Kraj ten posiada silnie rozwinięty sektor rybołówstwa oraz znaczących rozmiarów flotę handlową. Najważniejsze sektory produkcji to produkty żywnościowe, chemiczne, maszyny, wyroby metalowe, sprzęt elektroniczny i transportowy, piwo, papier i produkty z drewna. Ważnym sektorem gospodarki jest turystyka.	
C. Kraina lasów i jezior, najbardziej słynie ze swojej dziewiczej przyrody. Na dalekiej północy, przez ponad dziesięć tygodni lata trwają białe noce, podczas których słońce nie zachodzi. Zaś zimą, na tym samym obszarze, przez ponad osiem tygodni słońce nigdy nie wznosi się ponad horyzont.	
D. Kraj śródlądowy sąsiadujący z wieloma państwami – Słowacją, Ukrainą, Rumunią, Serbią, Chorwacją, Słowenią i Austrią. Jest to kraj w przeważającej części równinny, na północy lekko górzysty. Szczególnie popularne wśród turystów Jezioro Balaton jest największym jeziorem w Europie Środkowej.	
E. Jest krajem nizinnym, z wyjątkiem niskich wzgórz w części zachodniej i wyżyn na wschodzie. Najwyższym punktem jest Aukštasis (294 m.n.p.m.). Państwo to ma 758 rzek, ponad 2800 jezior i 99 km wybrzeża Bałtyku, które służy przede wszystkim rekreacji i ochronie środowiska. Lasy pokrywają ponad 30 proc. terytorium kraju.	
F. Niewielki kraj otoczony przez Belgię, Francję i Niemcy, którego historia jest nierozdzielnie związana z historią sąsiadujących z nim państw. Luksemburg to kraina wzgórz i lasów.	
G. Kraj nizinny, a jedna czwarta jego powierzchni to obszary leżące na wysokości poziomu morza lub depresje. W wielu rejonach ochronę przeciwpowodziową zapewniają obwałowania brzegów morza i koryt rzecznych. Znaczna część powierzchni powstała w drodze osuszania zbiorników wodnych, czego najnowszym przykładem jest polder Flevoland.	
H. Państwo położone w Europie Południowo-Wschodniej. Na północy dominuje krajobraz górzysty, a na południu rozległa Dolina Dunaju. U ujścia Dunaju do Morza Czarnego rzeka tworzy deltę, która jest rezerwatem przyrody niezliczonych gatunków ptaków wędrownych.	